

Name _____

Klasse _____

Bestimmen der Tonhöhe im Altschlüssel

Oktavierung:




C - H grosse Oktave

c - h kleine Oktave

c' - h' eingestrichene Oktave

c'' - h'' zweigestrichene Oktave

Bestimmen Sie die genaue Tonhöhe (mit Oktavierung)!

1	2	3	4
			
5	6	7	8
			
9	10	11	12
			
13	14	15	16
			
17	18	19	20
			
21	22	23	24
			
25	26	27	28
		